



afidni.com

الموضوع الاول الانفجار السكاني







التربية السكانية

العلم الذي يهدف الي التعريف بالسكان والظواهر
السكانية من حيث أسبابها والعوامل التي تتحكم فيها
والآثار المترتبة عليها







الانفجار السكاني



هو الزيادات الكبيرة في أعداد
السكان بالمقارنة مع الموارد
المتاحة.



من خلال دراستك للجدول أجب عن الأسئلة التي تليه

السنة	عدد السكان *
ما قبل الميلاد - ٢١٠ م	٢٥٠ مليون نسمة
١٦٥٠ م	٥٥٠ مليون نسمة
١٨٣٠ م	مليار نسمة
١٩٣٠ م	٢ مليار نسمة
١٩٦٠ م	٣ مليار نسمة
١٩٨٧ م	٥ مليار نسمة
١٩٩٩ م	٦ مليار نسمة



- في أي عام وصل عدد السكان في العالم الي 6مليار نسمة؟ -1
ماذا تلاحظ في أعداد السكان خلال المراحل المختلفة؟ -2
ما المشكلات المتوقعة من التسارع الكبير في النمو السكاني؟ -3

عدد السكان *	السنة
٢٥٠ مليون نسمة	ما قبل الميلاد - ٢١٠ م
٥٥٠ مليون نسمة	١٦٥٠ م
مليار نسمة	١٨٣٠ م
٢ مليار نسمة	١٩٣٠ م
٣ مليار نسمة	١٩٦٠ م
٥ مليار نسمة	١٩٨٧ م
٦ مليار نسمة	١٩٩٩ م


الإجابة





1- في أي عام وصل عدد السكان في العالم الي 6مليار نسمة؟

عدد السكان *	السنة
٢٥٠ مليون نسمة	ما قبل الميلاد - ٢١٠ م
٥٥٠ مليون نسمة	١٦٥٠ م
مليار نسمة	١٨٣٠ م
٢ مليار نسمة	١٩٣٠ م
٣ مليار نسمة	١٩٦٠ م
٥ مليار نسمة	١٩٨٧ م
٦ مليار نسمة	١٩٩٩ م





ماذا تلاحظ في أعداد السكان خلال المراحل المختلفة؟-2

السنة	عدد السكان *
ما قبل الميلاد - ٢١٠ م	٢٥٠ مليون نسمة
١٦٥٠ م	٥٥٠ مليون نسمة
١٨٣٠ م	مليار نسمة
١٩٣٠ م	٢ مليار نسمة
١٩٦٠ م	٣ مليار نسمة
١٩٨٧ م	٥ مليار نسمة
١٩٩٩ م	٦ مليار نسمة



ما المشكلات المتوقعة من التسارع الكبير في النمو-3
السكاني؟

الاجابة

مشكلة الاسكان -2

الضغط على الموارد -1

الجوع -4

الفقر -3





:- اسباب الانفجار السكاني

- أ - ارتفاع معدل المواليد
- ب - انخفاض معدل الوفيات
- ج - الهجرة

اسباب انخفاض معدل الوفيات

- ارتفاع المستوى المعيشي.
- انتشار التعليم.
- توافر الغذاء السليم.
- تقدم الخدمات الصحية (العناية
بالأم قبل وأثناء الحمل وبعد
الولادة، ورعاية الأطفال
والتطعيم).

اسباب ارتفاع معدل المواليد

- انخفاض الوعي
السكاني
والاقتصادي.
- انخفاض المستوى
التعليمي.
- انخفاض مستوى
الدخل.
- الزواج المبكر.



اقرأ الشكل السابق ثم حدد ما مثله كل من أ و ب

- ارتفاع المستوى المعيشي.
- انتشار التعليم.
- توافر الغذاء السليم.
- تقدم الخدمات الصحية (العناية بالأم قبل وأثناء الحمل وبعد الولادة، ورعاية الأطفال والتطعيم).





- انخفاض الوعي السكاني والاقتصادي.
- انخفاض المستوى التعليمي.
- انخفاض مستوى الدخل.
- الزواج المبكر.

أ - ارتفاع معدل المواليد
ب - انخفاض معدل الوفيات

انتبه

ادرس الجدول التالي واستعن به في حل الأسئلة





ما القارة التي تمثل أعلى معدل المواليد؟ وما- 1
القارة التي تمثل أقل معدل الوفيات؟

رتب قارات العالم ترتيبا تصاعديا من حيث أعداد
السكان؟

الإجابة

القارة التي تمثل أعلى معدل المواليد: **أفريقيا**
القارة التي تمثل أقل معدل الوفيات: **أمريكا الجنوبية والوسطى**

قارات العالم ترتيبا تصاعديا من حيث أعداد - 2
الأقيانوسية - أمريكا الشمالية - أمريكا الجنوبية السكان
والوسطى - أوروبا - أفريقيا - آسيا

الإجابة



ما الآثار الاجتماعية والاقتصادية للانفجار السكاني؟



نقص الغذاء وسوء التغذية

انخفاض المستوى المعيشي

قلة فرص العمل

الضغط على الخدمات

الضغط على مصادر الطاقة



نشاط 5 صفحة 13



نقص الغذاء و
سوء التغذية



إنخفاض
المستوى المعيشي



س1 / علدي أسباب إنخفاض
المستوى المعيشي ؟

س2 / أذكرني أمثلة لدول
يظهر فيها إنخفاض المستوى
المعيشي ؟





اذكر سببان يؤديان إلى قلة فرص العمل؟

- 1- الزيادة السكانية بما يفوق عدد فرص العمل المتوافرة
- 2- تباطؤ عمليات التنمية

ما العلاقة بين قلة فرص العمل والانفجار السكاني

علاقة عكسية حيث يؤدي الانفجار السكاني إلى:
أ- زيادة القوة العاملة ب - قلة فرص العمل

ماذا تقترح علي الشباب الذين لم تتح لهم فرصة القبول
في الجامعات؟



- فتح مشاريع خاصة بهم والعمل الحر-
- الالتحاق بالتعليم التقني -
- العمل في القطاع الخاص -

ما دور الدول للتخلص من مشكلة قلة فرص العمل

- 1- توفير الدعم للشباب لعمل مشاريع فردية
- 2- رعاية المبادرات الفردية
- 3- دعم القطاع الخاص
- 4- تنويع التعليم التقني





٩

– دولة يبلغ عدد سكانها (٢,٠٠٠,٠٠٠) نسمة ، وتبلغ قوة العمل (القادرون على العمل) بها حوالي (١,٢٠٠,٠٠٠) نسمة ، إلا أن عدد العاملين فعلاً منهم حوالي (٩٥٠,٠٠٠) نسمة ، لي ضوء ذلك أجب عما يأتي :

- أ- أحسبي حجم الباحثين العمل
- ب- أحسبي نسبة الباحثين عن العمل

afidni.com

– بلغت نسبة السكان الباحثين عن عمل في 1
الارجنتين حوالي) 02% (من جملة السكان عام
م. 0220

- بلغت نسبة السكان الباحثين عن عمل في الولايات 0
المتحدة الامريكية حوالي) 0% (عام 0220 م
تمعن في المعلوماتين السابقتين ثم أجب عما يليهما من
أسئلة:

أ- كم يبلغ الفرق بين الدولتين من حيث نسبة
الباحثين عن عمل؟

ب - برأيك ما سبب ارتفاع النسبة في الارجنتين
مقارنة بالولايات المتحدة الامريكية؟